


Challenge mathématique 2024 – 2025

Manche 3 – Niveau 2A (problème 1 jour 3)

Chez le fleuriste

Après ces achats,
combien d'argent
reste-t-il dans le
porte-monnaie ?



Challenge mathématique 2024 – 2025


Manche 3 – Niveau 2A (problème 2 jour 3)

Les rangées de salades

Dans le jardin, il y a 30 salades.
Sur chaque rangée, il y a le même nombre de salades.



Combien a-t-on planté de rangées de salades ?




Challenge mathématique 2024 – 2025

Manche 3 – Niveau 2A

Les carrés

Relie des points pour former un carré.
Trouve tous les carrés possibles.

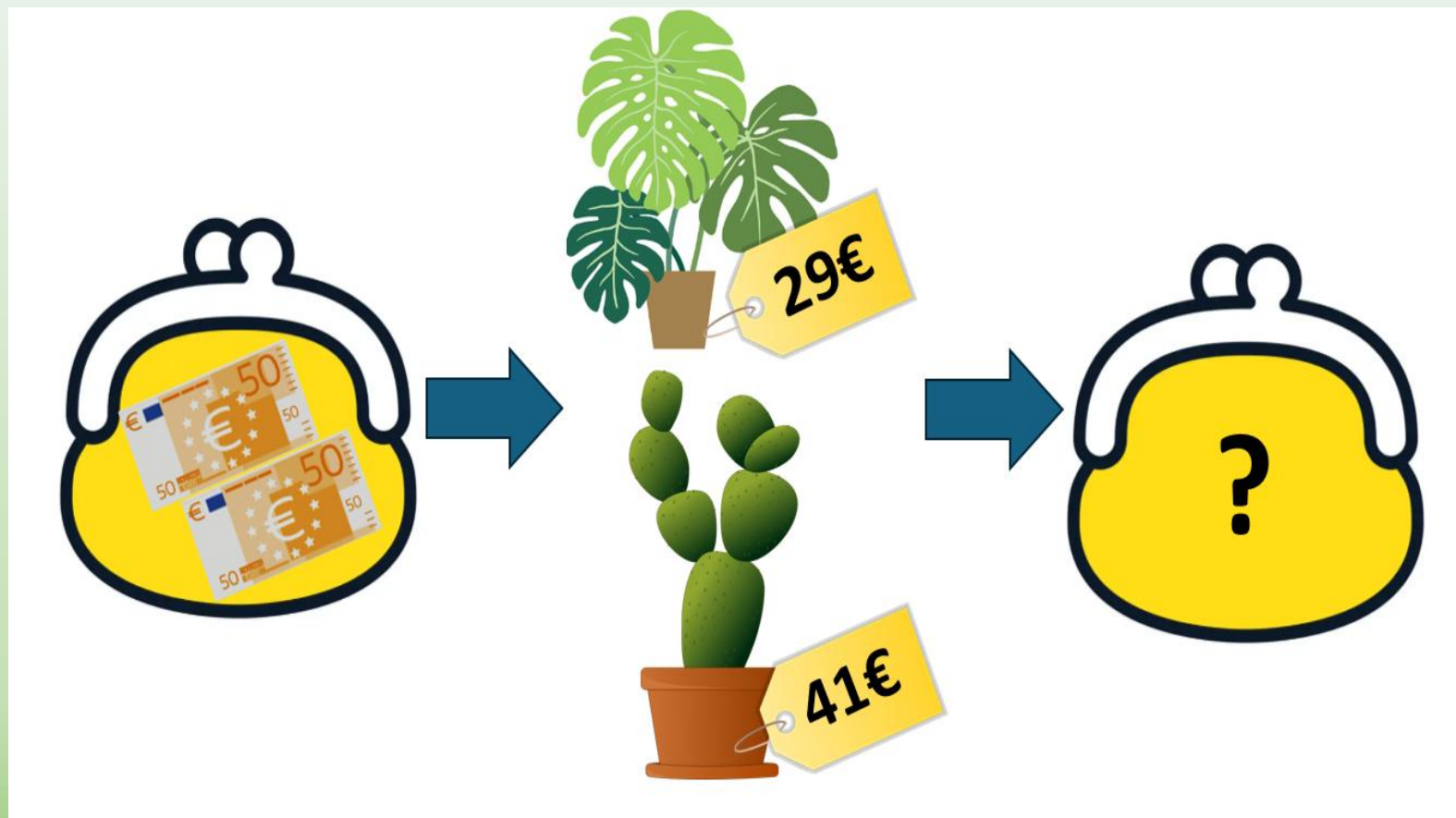


Bonus n°1 : problème atypique



Challenge mathématique 2024 – 2025

Manche 3 – Niveau 2A



Bonus n°2 : production d'énoncé

